

XII Ogólnopolski Konkurs Wiedzy Biblijnej

KLUCZ TESTU FINAŁOWEGO DLA POZIOMU III

rok szkolny 2019/2020

Drogi Uczestniku Ogólnopolskiego Konkursu Wiedzy Biblijnej,

nim przystąpisz do rozwiązywania testu finałowego Konkursu wpisz swoje dane w tabeli poniżej oraz przeczytaj instrukcję. Sprawdź czy posiadasz test składający się z 9 stron.

nazwisko:		imię:	
nazwa i adres Zboru:			

Instrukcja:

1. Test składa się z 20 pytań, za które w sumie możesz otrzymać 100 punktów.
2. Na napisanie testu masz 60 minut.
3. W części A testu są pytania tylko z jedną poprawną odpowiedzią.
4. W części B testu są pytania wielokrotnego wyboru. Wolno Ci zaznaczyć nie więcej odpowiedzi, niż wskazana liczba poprawnych odpowiedzi. Zaznaczenie większej ilości niż jest to podane w pytaniu sprawi, że za to konkretne zadanie otrzymasz 0 punktów.
5. W części A i B odpowiedzi należy zaznaczać bezpośrednio w pytaniach biorąc odpowiedni podpunkt w kółeczko (nie ma karty odpowiedzi). W przypadku, gdy zaznaczono błędną odpowiedź, należy ją przekreślić znakiem X:

Przykład zaznaczenia odpowiedzi:

Kto nadał Józefowi imię?

- a) Bóg
- b) matka
- c) ojciec
- d) sąsiedzi
- e) wuj

Przykład poprawienia odpowiedzi:

Kto nadał Józefowi imię?

- a) Bóg
- b) matka
- c) ojciec
- d) sąsiedzi
- e) wuj

6. W części C należy wykonać polecenia. Staraj się pisać wyraźnie, gdyż nieczytelne odpowiedzi mogą zostać pominięte podczas oceny.
7. W żadnej części testu nie ma punktów ujemnych za błędne odpowiedzi.
8. W części D znajduje się brudnopis, który nie podlega ocenie.

Z życzeniami Bożego pokoju w sercu
Centralna Komisja Konkursu



Służba katechetyczna

Kościola Zielonoświątkowego w RP



CZĘŚĆ A

Test jednokrotnego wyboru
(pytania z jedną poprawną odpowiedzią)

A1. Którego dnia dzieła stworzenia Bóg powiedział: *Niech się ukaże suchy ląd*?

- a) pierwszego
- b) drugiego
- c) trzeciego 1 M 1,9.13 1 p.**
- d) czwartego
- e) piątego

PUNKTACJA CZĘŚCI A

Każda prawidłowa odpowiedź 1 p. Zaznaczenie więcej niż jednej odpowiedzi w pytaniu 0 p.

Maksymalnie za każde pytanie 1 p.
Maksymalnie w części A do zdobycia 7 p.

A2. Jakie wymiary miała arka (wysokość x długość x szerokość)?

- a) 20 x 200 x 50 łokci
- b) 20 x 300 x 60 łokci
- c) 30 x 200 x 40 łokci
- d) 30 x 300 x 50 łokci 1 M 6,15 1 p.**
- e) 50 x 300 x 40 łokci

A3. Jak często żona Potyfara namawiała Józefa do grzechu?

- a) co kilka dni
- b) codziennie 1 M 39,10 1 p.**
- c) tylko, gdy Potyfar wyjeżdżał
- d) za każdym razem, gdy go widziała
- e) zrobiła to tylko raz

A4. Spośród potomków Adama do Noego ile miał lat najmłodszy mężczyzna w chwili, gdy urodził mu się syn?

- a) 35
- b) 65 1 M 5,15.21 por. z 1 M 5,3-32 1 p.**
- c) 95
- d) 120
- e) 300



A5. Jaki potok przebył Jakub tuż przed spotkaniem z Ezawem?

- a) Cedron
- b) Jabbok 1 M 32,22 1 p.**
- c) Kerit
- d) Kidron
- e) Kiszon

A6. Ile lat żył Abraham po śmierci swojej żony Sary?

- a) ok. 6
- b) ok. 15
- c) ok. 24
- d) ok. 38 1 M 17,17 por. z 1 M 23,1 i 25,7 1 p.**
- e) ok. 47

A7. Jaka funkcję na dworze Abimelecha pełnił Pikol?

- a) dowódcy wojska 1 M 26,26 1 p.**
- b) dworzanina królowej
- c) namiestnika Geraru
- d) zarządcy dworu
- e) żadnej, był przyjacielem Abimelecha

CZĘŚĆ B

Test wielokrotnego wyboru
(pytania ze wskazaną ilością poprawnych odpowiedzi)

UWAGA: Zaznaczenie większej ilości odpowiedzi, niż przewidziano w pytaniu jest równoznaczne z otrzymaniem 0 punktów za to zadanie.

B1. Kto był synem Bilhy? Zaznacz dwie odpowiedzi. max 2 p.

- a) Aszer
- b) Dan 1 M 30,5.6 i 1 M 46,23-25 1 p.**
- c) Gad
- d) Issachar
- e) Naftali 1 M 30,7.8 i 1 M 46,23-25 1 p.**

PUNKTACJA CZĘŚCI B

Każda prawidłowa odpowiedź 1 p.
Zaznaczenie więcej niż wymagana liczba odpowiedzi w pytaniu 0 p. za to zadanie.

Maksymalna liczba p. za każde pytanie podana jest przy pytaniu.
Maksymalnie w części B do zdobycia 21 p.



max 3 p.

B2. Kto w Księdze Rodzaju jest nazwany *Hebrajczykiem*? Zaznacz trzy odpowiedzi.

- | | |
|---|-------------------------------------|
| a) Abram 1 M 14,13 1 p. | e) Jakub 1 p. |
| b) bracia Józefa 1 M 43,32-33 1 p. | f) Józef 1 M 39,7.14 i 1 M 41,12.14 |
| c) Ezaw 1 p. | g) Terach |
| d) Izaak | |

max 4 p.

B3. Jakie zwierzęta posłał Jakub w darze Ezawowi? Zaznacz cztery odpowiedzi.

- | | |
|--------------------------------|--------------------------------------|
| a) bawoły | f) lamy |
| b) jaki | g) owce 1 M 32,14 1 p. |
| c) konie | h) świnie |
| d) kozy 1 M 32,14 1 p. | i) wielbłądźce 1 M 32,15 1 p. |
| e) krowy 1 M 32,15 1 p. | |

B4. Co Bóg obiecał Jakubowi w Beer-Szebie? Zaznacz cztery odpowiedzi. max 4 p.

- a) Józef zamknie mu oczy 1 M 46,4 **1 p.**
- b) nie musi obawiać się pójścia do Egiptu 1 M 46,3 **1 p.**
- c) podróż do Egiptu będzie bezpieczna
- d) rzuci Egipt Izraelowi pod stopy
- e) uczyni go w Egipcie wielkim narodem 1 M 46,3 **1 p.**
- f) w Egipcie zobaczy swoje wnuki
- g) wyjdzie z Egiptu po 400 latach niewoli
- h) wyjdzie z Józefem z Egiptu
- i) wyprowadzi go z Egiptu 1 M 46,4 **1 p.**

B5. Do kogo Bóg lub Anioł przemówił we śnie? Zaznacz cztery odpowiedzi. max 4 p.

- | | |
|-----------------------------------|--------------------------------|
| a) Abimelech 1 M 20,3 1 p. | f) Laban 1 M 31,24 1 p. |
| b) Abram 1 M 15,12-13 1 p. | g) Lot |
| c) Izaak | h) Noe |
| d) Jakub 1 M 31,11 1 p. | i) Potyfar |
| e) Juda | |



B6. Co wiemy o rzece Pizon? Zaznacz cztery odpowiedzi. max 4 p.

- a) jest odnogą rzeki wpływającej do Edenu
- b) ma swoje źródła w Edenie 1 M 2,10-11 1 p.
- c) opływa kraj, w którym występuje żywica bdelium 1 M 2,11-12 1 p.
- d) opływa kraj Chawila 1 M 2,11 1 p.
- e) opływa kraj Chiwwijczyków
- f) opływa kraj Kusz
- g) opływa kraj słynący z wybornego złota 1 M 2,11-12 1 p.
- h) płynie na wschód od Asyrii
- i) płynie przez równinę w kraju Synear

PUNKTACJA CZĘŚCI C

Każda prawidłowa odpowiedź 1 p.,
chyba że zaznaczono inaczej (pyt. C3).

Maksymalna liczba p. za każde pytanie
podana jest przy poleceniu.

Maksymalnie w części C do zdobycia 72 p.

CZĘŚĆ C

Wykonaj polecenia

C1. Po potopie potomkowie Noego rozeszli się w różne strony świata. Przyporządkuj narody synom Noego, od których pochodzą. Uzupełnij tabelę. max 6 p.

Sem	Cham	Jafet
<i>B, D</i> 2 p.	<i>A, C, E</i> 3 p.	<i>F</i> 1 p.

- A. Filistyni 1 M 10,6.13-14
- B. Hebrajczycy 1 M 10,21
- C. Kananejczycy 1 M 10,6.15-20
- D. ludy gór wschodnich od Meszy do Sefar 1 M 10,22-31
- E. mieszkańcy Babilonu i Niniwy 1 M 10,6-12
- F. narody wyspiarzy 1 M 10,2.5

C2. Bóg Abrahama, Izaaka i Jakuba przedstawiał się w różny sposób. Mówiono o Nim także na wiele sposobów. Do podanych określń dopasuj kto i kiedy mówił w ten sposób o Panu Bogu. Uzupełnij tabelę. max 5 p.

przedstawienie Boga	mówiący	okoliczności, w jakich padły te słowa
<i>Bóg, który prowadził mnie jak pasterz</i> 1 M 48,15	<i>Izrael (Jakub)</i> 1 M 48,14 1 p.	<i>Jakub błogosławi Efraimowi, Manassesowi i Józefowi</i> 1 M 48,14-15 1 p.
<i>Pan, Bóg Wiekuisty</i> 1 M 21,33	Abraham	<i>po zawarciu przymierza z Abimelechem Abraham zasadził tamaryszek w Beer-Szebie i wzywał imienia Pana</i> 1 M 21,27-33 1 p.
<i>Tyś Bóg, który mnie widzi</i> 1 M 16,13	<i>Hagar</i> 1 M 16,8 1 p.	<i>Hagar ucieka przed Saraj i spotyka anioła Pańskiego przy źródle wód</i> 1 M 16,6-8 1 p.

B por. z
1 M 11,15-26 i 1 M 14,13



max 15 p. (10,5 p. + 0,5 p. + 1 p. + 3 p.)

C3. Uzupełnij brakujące słowa w wersetych z zakresu Konkursu. Wpisane słowa znajdź i wykreśl z diagramu. Mogą one być wpisane poziomo, pionowo, wspak i na ukos. Pozostałe litery wypisane kolejno utworzą hasło – imię biblijnego bohatera. Uzupełnij kto i komu oraz w jakich okolicznościach nadał to imię.

I stworzył Bóg człowieka na obraz swój. (1 M 1,27) 1,5 p.

Żałował Pan , że uczynił człowieka na ziemi

po 0,5 p. za każdy *i bolał nad tym w sercu swoim. (1 M 6,6) 2,5 p.*

wyraz *Łuk mój kładę na obłoku, aby był znakiem przymierza między mną a ziemią. (1 M 9,13) 2,5 p.*

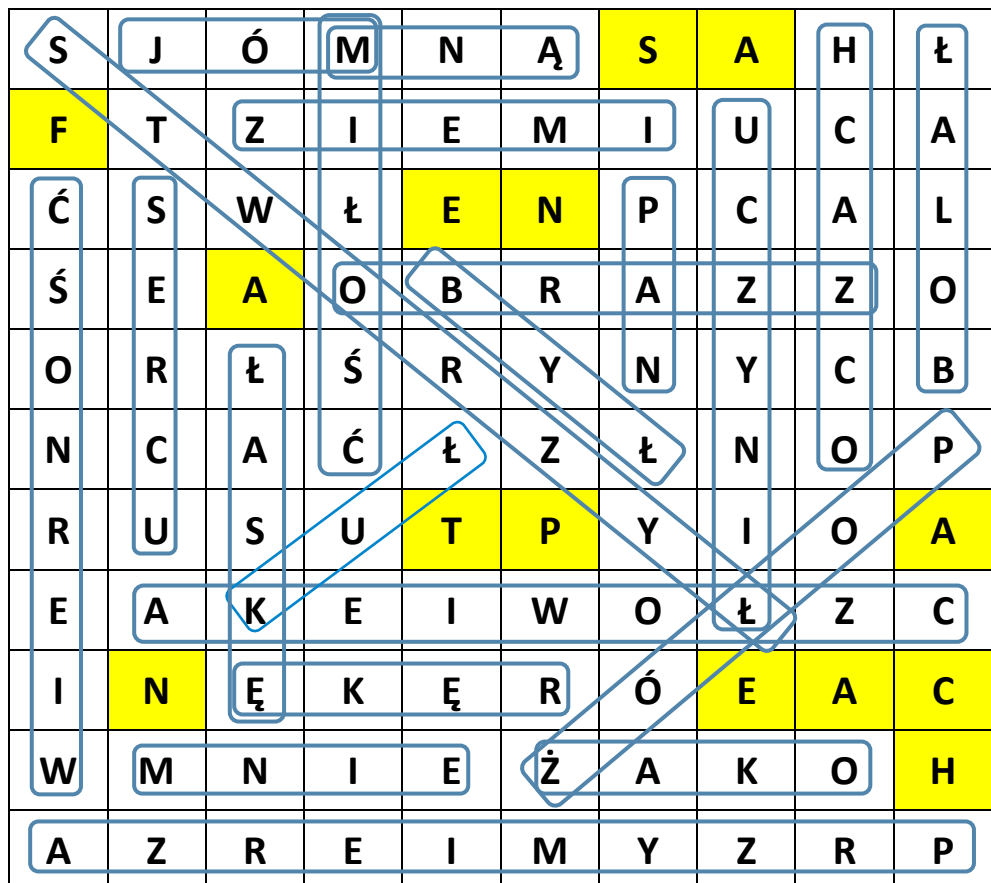
Jeślim znalazł łaskę w oczach twoich, połóż, proszę,

..... rękę swoją pod biodro moje i okaż mi miłość

i wierność : Nie pochowaj mnie w Egipcie. (1 M 47,29b) 4 p.

jeżeli wszystkie wersety zostały napisane
 bezbłędnie należy przyznać dodatkowo 0,5 p.

diagram nie podlega ocenie



Hasło: 1 M 41,45 1 p.

S	A	F	E	N	A	T	P	A	N	E	A	C	H
---	---	---	---	---	---	---	---	---	---	---	---	---	---

Kto nadał to imię?	faraon 1 p.
Komu nadano to imię?	Józefowi 1 p.
W jakich okolicznościach nadano to imię?	ustanowienie Józefa zarządcą całego Egiptu po wyłożeniu snów faraonowi 1 M 41,25-45 1 p.

C4. Posiłkując się zamieszczoną mapą wpisz właściwe miejsca związane z historią Abrama i Lota. Zaznacz na mapie trzy miejsca, w których patriarcha zbudował Panu ołtarz. max 15 p. (12 p. miejscowości w opisie +3 p. za ołtarze na mapie)

*Abram z rodziną przybył do Kanaanu. Przeszedł tę ziemię aż do miejscowości **Sychem**, do dębu More. Stamtąd wyruszył w góry i rozbił swój namiot. **Betel** było z zachodu a **Ai** ze wschodu. Kiedy zaś nastął głód w tym kraju, Abram udał się do Egiptu.*

1 M 12,5-8 3 p.

*Po wyjściu z Egiptu Abram rozstał się z Lotem i przybył, by zamieszkać w dąbrowie **Mamre** pod **Hebronem**. Lot zamieszkał w Sodomie. Gdy wyruszył Kedorlaomer oraz królowie, którzy byli z nim, pobili Zuzytów w **Ham***

*i Emitów na **równinie Kiriataim** i Chorytów w **górach Seir***

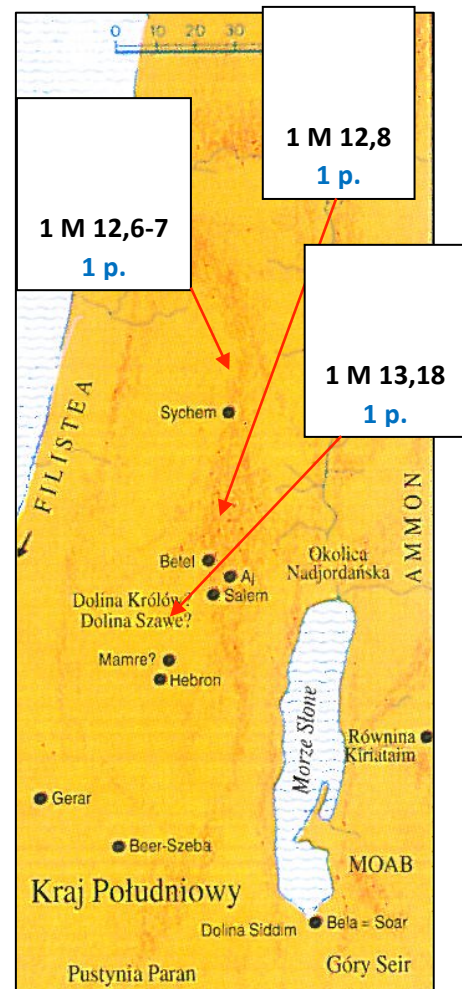
*Pokonali także pięciu królów w **dolinie Syddim**, dlatego Lot trafił do niewoli.*

1 M 13,18 i 1 M 14,5-6.8.10 6 p.

*Abram wyruszył, by uwolnić Lota. A gdy wracał po zwycięstwie wyszedł mu na spotkanie król Sodomii do **doliny Szewe**, **doliny Królewskiej**. Także w tym miejscu Melchisedek, król **Salemu**, błogosławił Abrama, który złożył mu dziesięcinę.*

1 M 14,17-20 3 p.

po 1 p. za każdą pełną nazwę miejscowości; nie przyznajemy połówek punktów



Mapa pochodzi z: John Strange,
Atlas Biblijny,
 Towarzystwo Biblijne w Polsce,
 Warszawa 1995, s. 28.



C5. W pustynnej ziemi życie zależne jest od dostępu do wody. Zastanów się, co wiesz o studniach Kanaanu. Uzupełnij tabelę. **max 10 p.**

lp.	nazwa studni	lokalizacja	wydarzenie
1.	<i>Studnia Żyjącego, który mnie widzi</i> 1 M 16,14 1 p.	<i>pustynia, na drodze do Szur</i> 1 M 16,7 1 p. <i>między Kadesz a Bered</i> 1 M 16,14 1 p.	<i>Hagar spotyka anioła Pańskiego po ucieczce od Saraj</i> 1 M 16,7-8 1 p.
			zamieszkał przy niej Izaak po śmierci Abrahama
2.	<i>Esek (Sprzeczką)</i> 1 M 26,20 1 p.	<i>dolina Geraru</i> 1 M 26,17.19-21 1 p.	Filistyńczycy spierali się z pasterzami Izaaka o dostęp do wody i studni
3.	<i>Sytna (Zwada)</i> 1 M 26,21 1 p.		
4.	<i>Rechowot</i> 1 M 26,22 1 p.	w innym miejscu niż studnie nr 2 i 3	o tę studnię nie było już żadnego sporu
5.	<i>Szibea</i> 1 M 26,33 1 p.	Beer-Szeba	<i>ugoda między Izaakiem i Abimelechem</i> 1 M 26,26-33 1 p.

C6. Podaj imię osoby, która stała się przyczyną wypowiedzenia podanych słów oraz wskaż osobę, która te słowa wypowiedziała. Uzupełnij tabelę. **max. 6 p.**

po 1 p. za każdą prawidłową parę;
nie przyznajemy połówek punktów

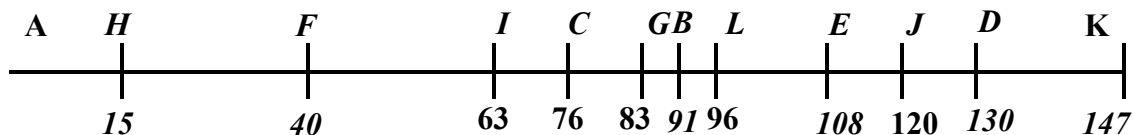
słowa	o kim mowa?	mówiący
<i>Bóg wystawił mnie na pośmiewisko; każdy kto to usłyszy, śmiać się będzie ze mnie.</i> 1 M 21,6 1 p.	<i>Izaak</i> 1 M 21,5	<i>Sara</i>
<i>Jakżeś to sobie utorował przejście!</i> 1 M 38,28-29 1 p.	<i>Peres</i>	<i>położna</i>
<i>Na pomyślność!</i> 1 M 30,11 1 p.	<i>Gad</i>	<i>Lea</i>
<i>Oddał mi Bóg sprawiedliwość i wysłuchał głosu mego, i dał mi syna.</i> 1 M 30,6 1 p.	<i>Dan</i>	<i>Rachela</i>
<i>Rozmnożył mnie Bóg w ziemi niedoli mojej.</i> 1 M 41,52-52 1 p.	<i>Efraim</i>	<i>Józef</i>
<i>To osioł kościsty, wyleguje się między zagrodami.</i> 1 M 49,2.14 1 p.	<i>Issachar</i>	<i>Jakub (Izrael)</i>



max 15 p. (10 p. chronologia +5 p. lata)

C7. Podana oś czasu przedstawia życie Jakuba. Przyporządkuj wskazane wydarzenia, które miały miejsce za jego życia we właściwe miejsce i tam, gdzie to konieczne – uzupełnij rok życia patriarchy.

po 1 p. za każde prawidłowe przyporządkowanie



po 1 p. za każdy rok z marginesem + 1 rok

- | | |
|--|--|
| A. narodziny Jakuba 1 M 25,26 | G. ślub Jakuba z córkami Labana |
| B. narodziny Józefa (w stopce) | H. śmierć Abrahama (w stopce)
C por. z 1 M 29,18-28 |
| C. opuszczenie rodzinnego domu (w stopce) | I. śmierć Ismaela (w stopce) |
| D. przybycie do Egiptu 1 M 47,9 | J. śmierć Izaaka 1 M 35,29 i A |
| E. sprzedanie Józefa (w stopce) | K. śmierć Jakuba 1 M 47,28-29 |
| F. ślub Ezawa z Chetytkami 1 M 26,34 i A | L. zawarcie przymierza z Labanem
C por. z 1 M 31,38.41.44-54 |
| B. D por. z 1 M 41,46.47.54 i 1 M 45,11 | I. 1 M 25,17 por. z 1 M 16,16 i H |
| C. B por. z 1 M 29,18.32-30,23 | H. 1 M 25,7 por. z 1 M 21,5 i J |
| E. 1 M 37,2 por. z 37,13.28 i B | |

CZĘŚĆ D

Brudnopis
(nie podlega ocenie)
